

学校独自検査問題は著作権の対象となっており，著作権法で保護されています。「私的使用のための複製」や「引用」など著作権法上認められた場合を除き，無断で複製・転用等することはできません。

平成 28 年度
公立高等学校入学者選抜
【前期選抜】
問 題
(仙台第二高等学校)

小 論 文 I

(第 4 時 13:00～13:50)

第一問

アジアの産業について、あとの問いに答えなさい。なお、解答に数字を使用する場合は、次の例にならうこと。

例	20	16	年
---	----	----	---

A 次の表1は、米の生産量と輸出量、天然ゴムの生産量と輸出量の上位国を示したものである。このことについて、あとの問いに答えなさい。

【表1】米の生産量と輸出量、天然ゴムの生産量と輸出量の上位国

米の生産量 (2012年)		米の輸出量 (2011年)		天然ゴムの生産量 (2012年)		天然ゴムの輸出量 (2011年)	
国	万トン	国	万トン	国	千トン	国	千トン
X	20,429	Z	1,067	Z	3,500	Z	2,997
Y	15,260	ベトナム	711	インドネシア	3,040	インドネシア	2,557
インドネシア	6,905	Y	500	マレーシア	970	マレーシア	946
ベトナム	4,366	パキスタン	341	ベトナム	864	ベトナム	817
Z	3,780	アメリカ	317	Y	805	コートジボワール	262

『データブック オブ・ザ・ワールド 2015年版』(株)二宮書店より作成

(1) 表1中のX～Z国について、正しい組み合わせを次のア～カから1つ選び、記号で答えなさい。

	ア	イ	ウ	エ	オ	カ
X	タイ	タイ	中国	中国	インド	インド
Y	中国	インド	タイ	インド	タイ	中国
Z	インド	中国	インド	タイ	中国	タイ

(2) 米の生産上位国と輸出上位国は一致している国が少ないのに対して、天然ゴムは一致している国が多い。このような違いが生じる背景を、作物の特性にふれながら90字以内で説明しなさい。

B アジアNIES(韓国, 台湾, シンガポール, ホンコン)の4つの国または地域について、次の表2は1965年と2013年の日本への上位輸出品目と輸出総額に占める割合を、また、図は2013年の輸出依存度*と1人あたりの輸出額を示したものである。このことについて、あとの問いに答えなさい。

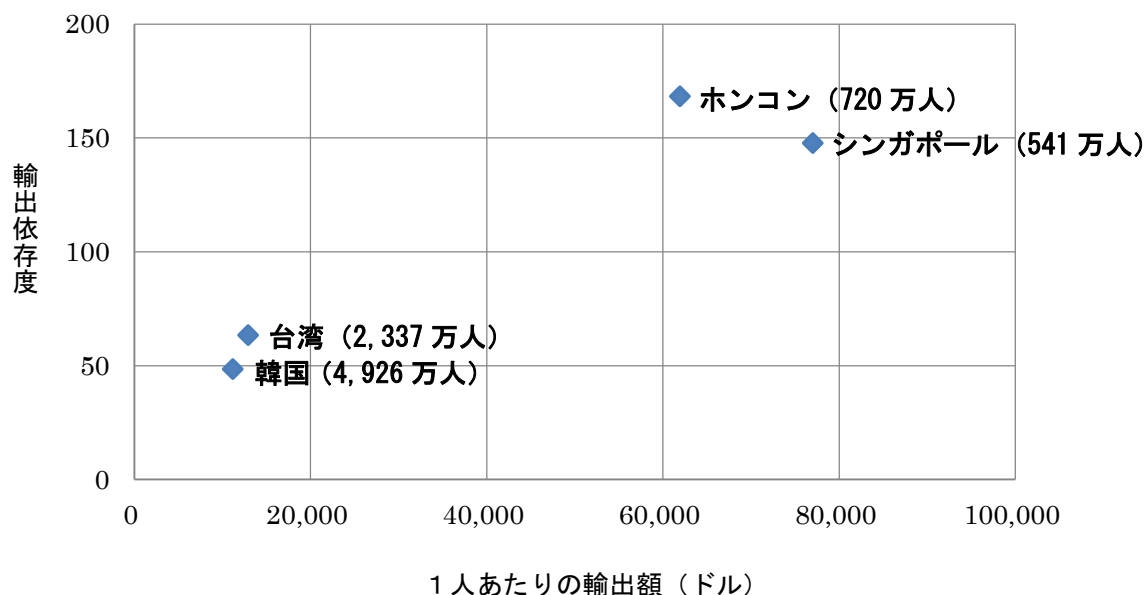
* 国内総生産(GDP)を100とした場合の輸出額の比率

【表2】1965年と2013年の日本への上位輸出品目と輸出総額に占める割合

	韓国		台湾		シンガポール		ホンコン	
	品目	%	品目	%	品目	%	品目	%
1965年	魚介類	33.3	バナナ	34.7	石油製品	63.2	魚介類	16.3
	鉄鉱石	18.7	米	29.3	ゴム	15.2	貴石、半貴石	14.3
	石炭	6.4	砂糖	16.0	非鉄卑金属くず	4.3	鉄鋼くず	11.0
	亜鉛鉱	2.9	木材	5.8	原皮	2.8	真ちゅう、青銅くず	6.8
	鉛鉱	2.6	パップル缶詰	1.4	鉄鉱石	1.6	ダイヤモンド	6.1
2013年	機械類	29.3	機械類	50.0	機械類	33.9	魚介類	18.6
	石油製品	24.2	プラスチック	4.4	医薬品	15.7	機械類	10.6
	鉄鋼	8.1	記録媒体	3.6	科学光学機器	5.6	ダイヤモンド	4.8
	プラスチック	3.7	鉄鋼	3.1	プラスチック	3.9	貴石・半貴石	1.8
	有機化合物	3.3	金属製品	3.0	有機化合物	2.5	科学光学機器	1.8

『日本国勢図会 2014/15年版』『数字でみる日本の100年改訂第5版』（公益財団法人 矢野恒太記念会）より作成

【図】 輸出依存度と1人あたりの輸出額（2013年）



※ () 内の数字は人口を示している

『世界国勢図会 2014/15年版』（公益財団法人 矢野恒太記念会）より作成

(1) 表2中の1965年と2013年の輸出品目について、アジアNIE Sに共通する変化の内容とその背景を90字以内で説明しなさい。

(2) 図中のホンコン・シンガポールは、台湾・韓国よりも輸出依存度が大幅に大きい。ホンコンとシンガポールに共通する特徴をふまえて、輸出依存度が大きい理由を70字以内で説明しなさい。

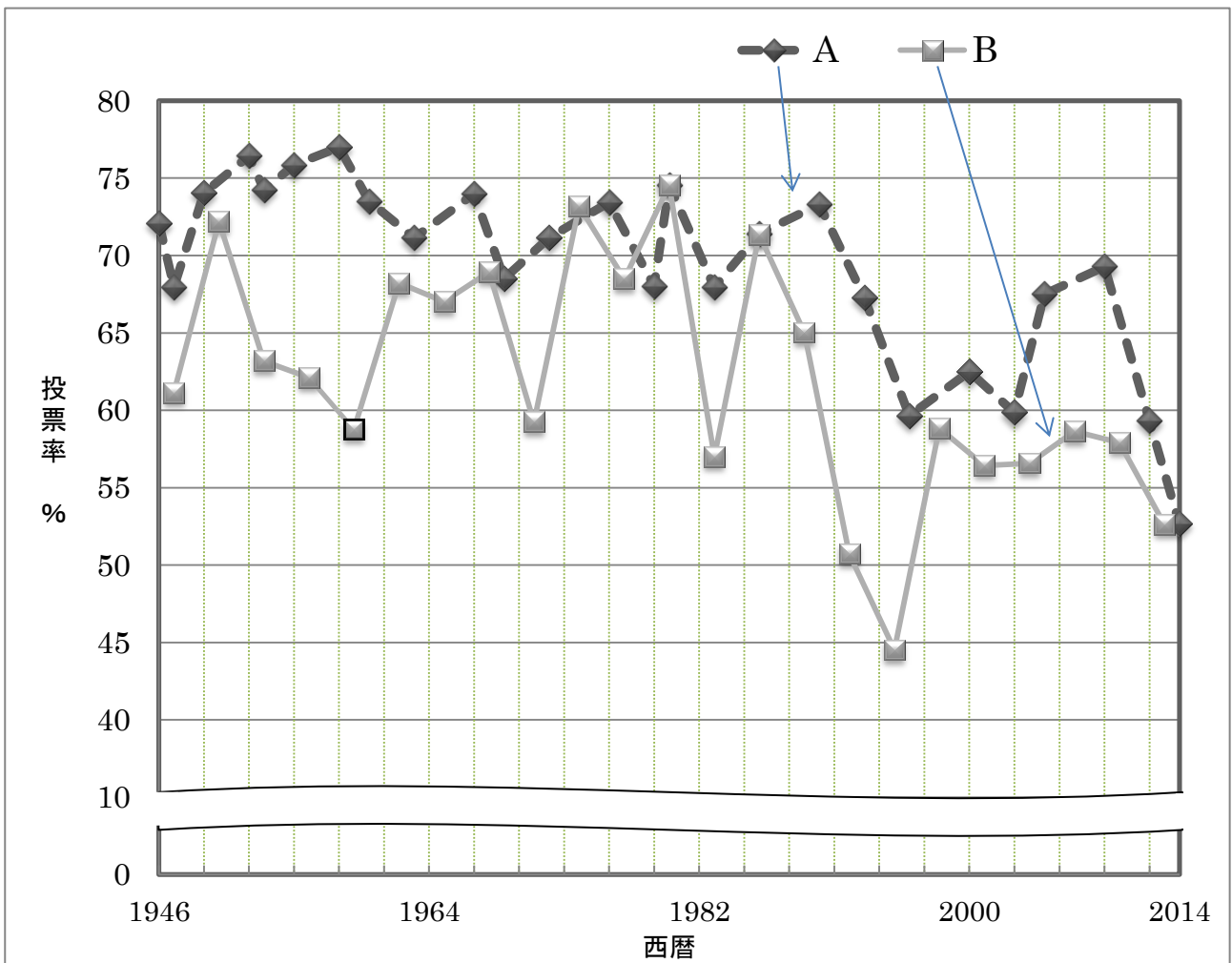
第二問

わが国の選挙について、次の問いに答えなさい。なお、解答に数字を使用する場合は、次の例にならうこと。

例	20	16	年
---	----	----	---

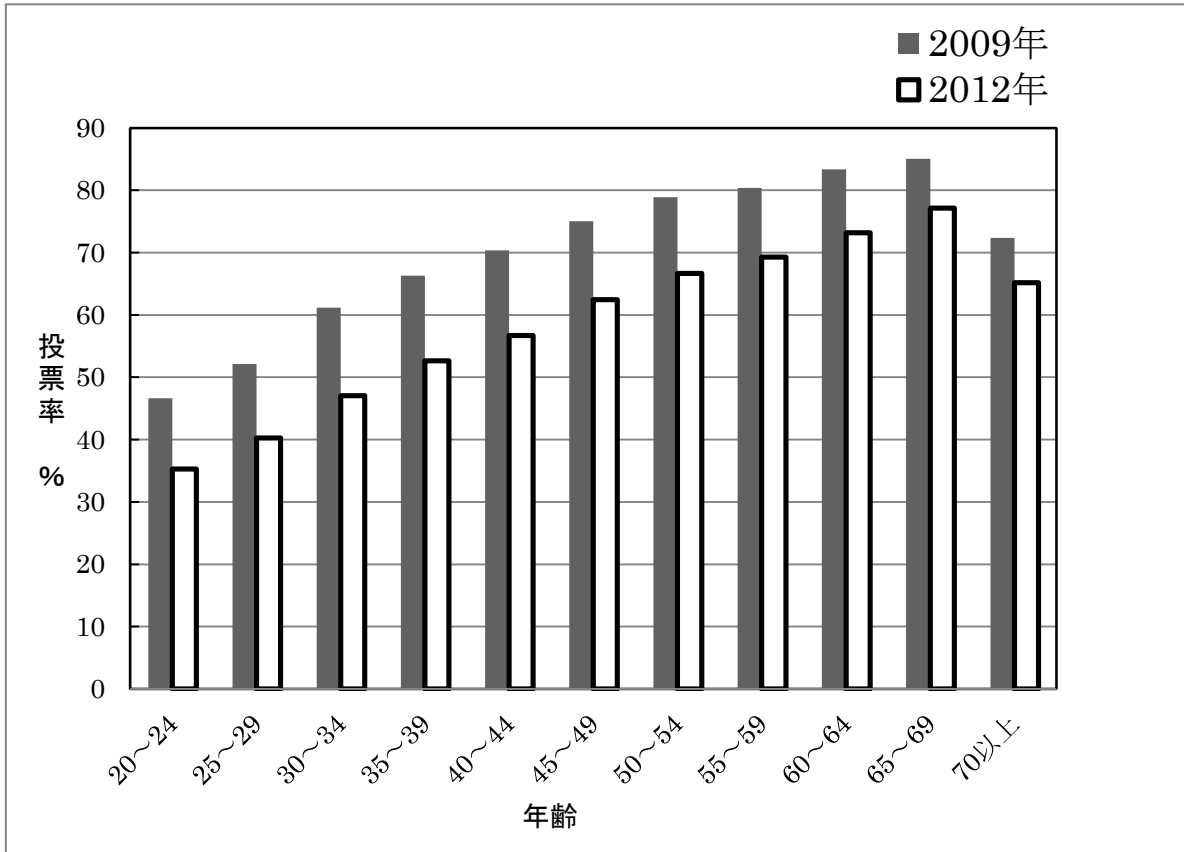
- (1) 図1は、国政選挙における投票率の推移を示したものである。折れ線A、折れ線Bのうちどちらが衆議院議員総選挙の投票率を示したものであるか。AかBで、答えなさい。
- (2) 図2は、2009年と2012年にそれぞれ実施された衆議院議員総選挙の年齢別投票率を示している。このグラフから読みとれるおもな特徴を50字以内で説明しなさい。
- (3) 図3は、2012年衆議院議員総選挙における意識調査のうち、投票の棄権理由についてまとめたものである。これをふまえて、図1に見られる傾向が続くとどのような問題が生じるかを、100字以内で説明しなさい。

【図1】 国政選挙における投票率の推移



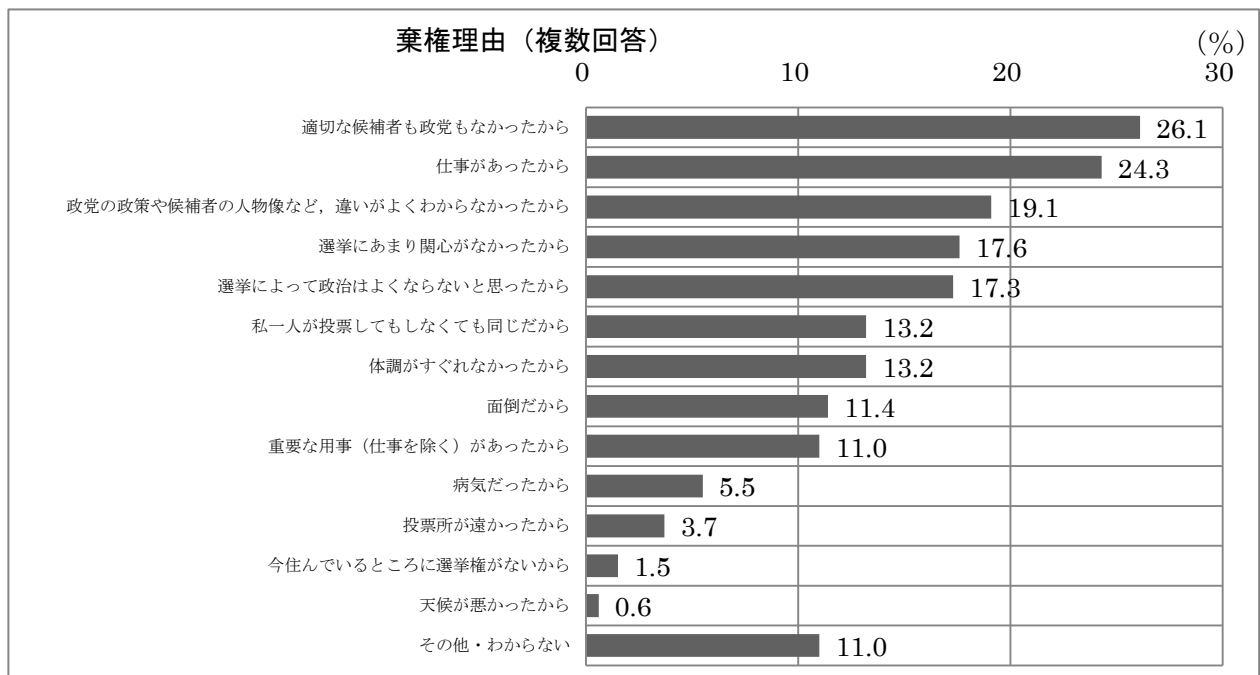
総務省ホームページより作成

【図2】 年齢別投票率の状況（衆議院議員総選挙 小選挙区）



「目で見える投票率」総務省選挙部 総務省ホームページより作成

【図3】 2012年衆議院議員総選挙における意識調査



「目で見える投票率」総務省選挙部 総務省ホームページより作成

第三問

日本の近代化について、次の問いに答えなさい。なお、解答に数字を使用する場合は、次の例にならうこと。

例

20	16	年
----	----	---

- (1) 明治時代において日本政府は、いわゆる欧化政策の一環として、大宝律令以来の太政官制を廃止して政府のしくみの近代化を推進した。1880年代に行われた政府のしくみの近代化に関して、次の**写真**の人物が果たした役割を**100字以内**で説明しなさい。

【写真】 伊藤博文（1841年生まれ，1909年死去）



国立国会図書館ホームページより

- (2) 日本は近代化の過程において、いくつかの戦争を経験した。次の**資料**は、日露戦争終結直後の1905年11月に、東京を警備する陸軍の司令官が天皇へ提出した文書を現代語に直したものである。これを読んで、あとの問いに答えなさい。

【資料】

去る9月5日、講和問題国民大会という名称のもとに集合した一団の民衆は、警視庁の禁止命令に反抗し、日比谷公園において衝突し、暴動を起こすに至りました。

これより前に、この集会については何かしら不穏な状況にあるという情報があったので、法令の定めにより、不測の事態に備えるために軍隊に対して、あらかじめ出動準備をさせておきました。午後5時以降、その民衆が起こした暴動はだんだん激しくなり、警察官や少数の憲兵では制止することができなくなりました。（中略）

6日には不穏な流言飛語がしきりに飛び交い、その夜には暴徒は東京の各所に広がり、警察署や教会堂、および交通機関を襲撃するようになりました。（下略）

アジア歴史資料センターホームページより作成

① この資料に記されているできごとの名称を答えなさい。

② このようなできごとが起こった理由について、次の表1・表2に示された戦争中の実情をふまえ、日露戦争の講和条約の内容にもふれながら100字以内で説明しなさい。

【表1】 日清・日露戦争における日本側の戦死者数の比較

	日清戦争（1894年～95年）	日露戦争（1904年～05年）
戦死者数 (戦病死者数を含む)	およそ1万3千人	およそ8万4千人

『国史大辞典』(株)吉川弘文館より作成

【表2】 日本の国家財政の動向（単位：百万円）

	1903年	1904年	1905年
国家の租税収入の総額	146.2	194.4	251.3
そのうち地租の額	46.9	60.9	80.5
所得税の額	8.2	14.4	23.3
営業税の額	7.0	12.6	18.8
砂糖消費税の額	6.9	8.4	11.3
国家の財政支出のうち			
軍事費の額	155.1	677.3	741.4

『日本歴史大系』(株)山川出版社より作成